



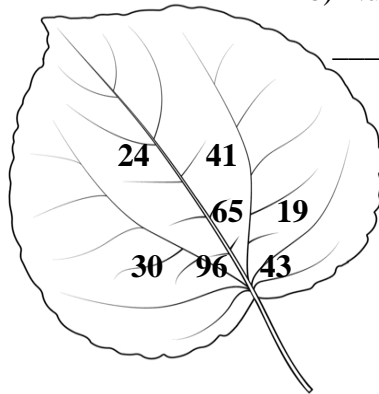
Fișă de lucru- clasa a II-a
Exerciții- Numere naturale 0-100

1. Numără cerculețele: 
Sunt _____ 

2. Alege, din numerele scrise pe frunză :

a) Numerele pare:

b) Numerele impare:



c) Ordonează **toate** numerele de pe frunză în ordine crescătoare:

3. a) Notează, pe tricou, vecinul mai mic al fiecărui număr:



75



30



89



24

b) Colorează cu verde tricoul pe care e scris cel mai mare număr și cu roșu tricoul pe care e scris cel mai mic număr

76 Rezolvă:

$15 + 13 =$

$38 + 26 =$

$40 + 29 =$

$69 - 15 =$

$73 - 16 =$

$70 - 23 =$

4. Află:

a) Numărul cu 8 mai mare decât 46

b) Numărul cu 26 mai mic decât 58
