

FIȘĂ DE LUCRU

Domeniul Științe - Activitate matematică

Grupa Mijlocie

1. Ordoneți crescător numerele: 0, 3, 2, 1, 4, 5.

--	--	--	--	--	--




2. Ordoneți descrescător numerele: 4, 5, 3, 1, 2, 0.

--	--	--	--	--	--

3. Completați șirul numerelor:

	1				5
--	---	--	--	--	---

4. Numără și încercuiește cifra corespunzătoare.

	2 3 4
	1 2 3
	3 4 5