





Fișă de lucru- Grupa mare
Domeniul Științe (Activitate matematică)

Prof.înv.preșcolar Tudorașcu Oana-Niculina

Grădinița cu Program Prolungit „Mihai Eminescu”, Târgu-Jiu

1. Numără elementele fiecărei mulțimi și trasează o linie la cifra corespunzătoare.



9

3

4

5

2. Colorează cu roșu vecinul mai mic și cu albastru vecinul mai mare al cifrelor date.



3. Calculează prin numărare.

