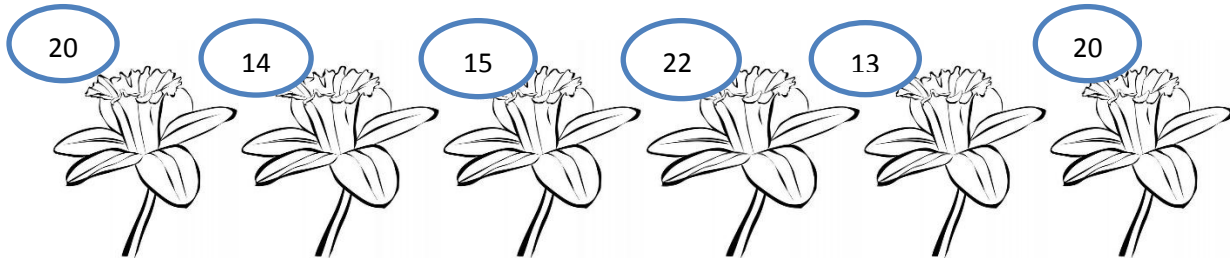


Fișa de lucru

Moceanu Ioana

Școala Gimnazială Bonțida, jud. Cluj

1. Fluturașul năzdrăvan. Găsiți floarea pentru fiecare fluturaș.




$45 \times 5 =$



$70 : 5 =$



$39 : 3 =$




$29 \times 7 =$



$34 \times 6 =$



$90 : 6 =$



2. Elevii clasei a III-a merg la *Clubul Cercetătorilor*. Acolo descoperă informații interesante despre planete, plante și animale.

Rezultatele exercițiilor reprezintă numărul de vizualizări, pe internet, a unor articole despre planete, plante respectiv animale. Află rezultatele, în fiecare caz.



$735 + 5 \times 127 - 12 =$



$263 + 96 : 4 - 13 \times 4 =$



$190 - 189 : 9 + 32 \times 14 : 2 =$