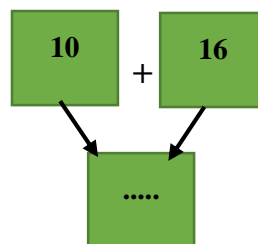
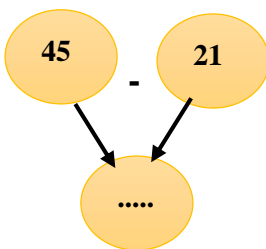
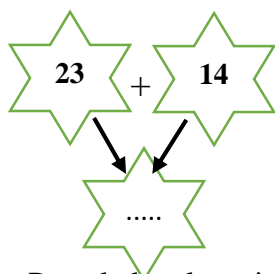


FIȘĂ DE LUCRU ADUNAREA ȘI SCĂDEREA ZU+ZU/ ZU-ZU,  
FĂRĂ TRECERE PESTE ORDIN

CLASA I

Prof. învăț. primar KOCSIS MARIA-MAGDALENA

1. Calculează și completează:



2. Pune la locul potrivit semnele +, -, =, astfel încât operațiile să fie corecte:

21	●	11	●	10		30	●	20	●	50
24	●	12	●	36		15	●	12	●	27

3. Colorează rezultatul corect, conform modelului:

$30 + 23 =$	13	<b>53</b>	43	$64 - 32 =$	42	96	32
$24 + 40 =$	20	44	64	$58 - 43 =$	15	33	12

4. Adevărat sau Fals?

$22 + 11 = 33$ .....	$53 = 12 + 13$ .....	$10 + 11 + 10 = 31$ .....
$40 - 10 = 30$ .....	$21 = 10 + 11$ .....	$30 + 10 - 10 = 30$ .....
$65 - 24 = 42$ .....	$89 = 79 - 50$ .....	$20 + 15 - 10 = 20$ .....

5. În grădina bunicii au înflorit 13 narcise, 11 zambile și 24 lalele. Câte flori sunt înflorite în grădina bunicii? Cu câte lalele sunt mai multe decât narcise?

Rezolvare

.....  
.....  
.....

R: ....., .....