

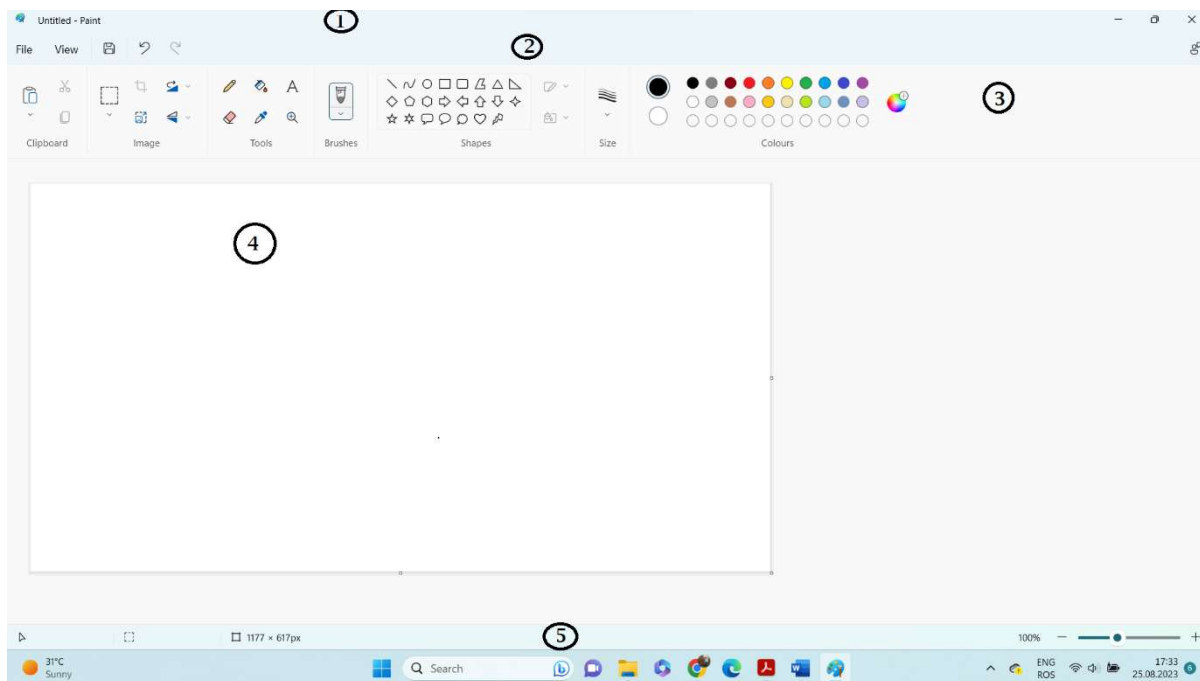
# FIȘĂ DE LUCRU - PAINT

(Fișă de recuperare pentru elevii cu CES)

CLASA a V-a

A. Identifică elementele de interfață ale aplicației PAINT din figura de mai jos, după modelul dat:





(ex: 1 – Bara de titlu, ....., 5 – Bara de stare)



- 1. - .....
- 2. - .....
- 3. - .....
- 4. - .....
- 5. - .....

B. Încercuți varianta corectă pentru afirmațiile de mai jos:





1. Pentru a selecta o zonă în Paint folosim instrumentul:

- a. 
- b. 
- c. 
- d. 

2. Pentru umplerea cu culoare a unei zone închise vom selecta instrumentul:

- a. 
- b. 
- c. 
- d. 




3. Pentru a scrie un text pe desenul realizat alegem instrumentul:

- a.  b.  c.  d. 

4. Pentru a trasa o linie dreaptă în desen folosim instrumentul:

- a.  b.  c.  d. 

5. Pentru a desena un cerc pe suprafața de lucru folosim instrumentul:

- a.  b.  c.  d. 